

**DAV PUBLIC SCHOOL**

Sector VI, Dwarka

# Winter Break Holiday Homework

## Class-III




**Note: The Homework for winter break will be assessed for formative assessment-4**

## ENGLISH

Q1) Prepare a bookmark and write neatly a slogan on **Save Water** on it.

Q2) Nobita has this bad habit of wasting water and his mother does not like it. Fill in the comic strips given below focussing on the **importance of water** in our lives. Be as creative as you can.



## हिंदी

**प्रश्न १ निम्नलिखित अपठित गद्यांश को पढ़कर पूछे गए प्रश्नों के उत्तर दीजिए -**

स्वाति के गाँव के स्कूल में आठवीं कक्षा तक पढ़ाई होती थी। वह पढ़ाई - लिखाई में बहुत अच्छी थी। उसने गाँव के स्कूल की पढ़ाई पूरी कर ली थी। उसे आठवीं कक्षा में प्रथम स्थान मिला था। उसकी पढ़ाई में बहुत रुचि थी। उसकी रुचि के कारण उसके पिता ने शहर के एक स्कूल में उसे नवीं कक्षा में प्रवेश दिलवा दिया। स्कूल में छात्रावास था। स्वाति भी छात्रावास में रहने लगी।

**प्रश्न १ स्वाति के गाँव के स्कूल में कौन- सी कक्षा तक पढ़ाई होती थी?**

उत्तर.....

**प्रश्न २ छात्रावास कहाँ था?**

उत्तर.....

**प्रश्न ३ स्वाति कहाँ रहने लगी?**

उत्तर.....

**प्रश्न २ दिए गए शब्दों के समान अर्थ वाले शब्द छाँटकर लिखिए-**

क सूरज.....

ख धरती.....

ग हवा.....

**प्रश्न ३ विलोम शब्द छाँटकर लिखिए-**


क अंधकार.....

ख मेहनत.....

ग सुख.....

घ नया.....

प्रश्न ४ 'र' के रूप का प्रयोग कर शब्द ठीक कीजिए -



प्रश्न ५ समान अर्थ वाले शब्दों को मिलाइए-

१ अवसर

मूर्ख

२ हुक्म

मौका

३ बेवकूफ़

आदेश

४ सबूत

प्रमाण

प्रश्न ६ चित्र देखकर मुहावरा लिखिए-



.....

.....

.....

.....

**9+2+11**

प्रश्न ७ लिखिए ,किसने ,किससे कहा?

कथन

किसने कहा

किससे कहा

क "हुज़ूर लिखकर बताऊँ या जुबानी"

.....

ख "कितने दिन में पता लगा सकते हो"

.....

ग "एक माह में"

.....

**प्रश्न ८ वाक्य बनाइए-**

क आँख का तारा- .....

ख प्रतीक्षा- .....

**प्रश्न ९ मिलान कीजिए-**

१ चिड़ियाँ गाती हैं	मीठे स्वर
२ बहते हैं उनके	अच्छा गुण
३ मेहनत सबसे	अलबेला है
४ धरती का सुख	मिल - जुलकर

**खंड ख**

**प्रश्न १ नीचे दिए गए पठित गद्यांश को पढ़कर पूछे गए प्रश्नों के उत्तर दीजिए-**

लगभग चार सौ वर्ष पहले की बात है हमारे देश में मुगल बादशाह अकबर का राज था। वे बहुत न्याय प्रिय थे। उनके दरबार में नौ मंत्री थे। उन्हें नवरत्न कहा जाता था। बीरबल भी इन मंत्रियों में से एक था। वह बहुत चतुर और बुद्धिमान था। अपनी बुद्धिमत्ता और चतुराई के कारण वह अकबर की आँख का तारा बना हुआ था।

१ चार सौ वर्ष पहले किस राजा का राज था?

उत्तर .....

२ राजा के दरबार में कितने मंत्री थे?

उत्तर .....

३ कौन चतुर और बुद्धिमान था?

उत्तर .....

**प्रश्न २ एक शब्द में उत्तर दीजिए-**

१ सुबह होने पर क्या होता है?

उत्तर .....

२ एक दिन बादशाह अकबर के दरबार में कौन आया?

उत्तर .....

३ यह पत्र किसने लिखा?

उत्तर .....

४ शौर्य छुट्टियों में क्या सीख रहा था?

उत्तर .....

**प्रश्न ३ निम्नलिखित प्रश्नों के उत्तर दीजिए -**

१ अगर सुबह सूरज न निकले तो क्या होगा?

उत्तर .....

२ बीरबल को बादशाह अकबर की कौन-सी बात अच्छी नहीं लगी?

उत्तर .....

३ एक बच्चे ने गणेश जी की मूर्ति कैसे बनाई?

उत्तर .....

**प्रश्न ४ मूल्याधारित प्रश्न-**

क सुबह की सैर और व्यायाम से आपको क्या फ़ायदा होता है?

उत्तर .....

ख किसी भी अनजान व्यक्ति से मिलने पर हमें कई सावधानियाँ बरतनी होंगी ,क्यों?

उत्तर .....

.....  
.....  
.....  
.....

## MATHEMATICS



Estimate the consumption of water at your home in one day.


You can use various measuring glass, bucket, etc. to measure the consumption of water in various household activities as shown below. You can also refer to the capacity of water tank at your home.

Also calculate the consumption in one month (in litres and millilitres).

Attach one water bill with your project,

Collect the data in a tabular form as demonstrated below.

S.No.	Various household activities	Consumption of water in one day (in litre and millilitre)







## SCIENCE

### **Activity - 1**

1. Take a big glass jar.
2. Fill the jar with hot water.
3. Then cover it with a dinner plate.
4. Keep the jar there for a minute or two, and then dump a tray of ice cubes on the plate.
5. Write down your observation. Draw the diagram of the activity in an A-4 sheet.

### **Activity -2**

1. Take a plastic bottle of any size.
2. Ask your parents to punch a hole in the side of the bottle with an ice pick.
3. Cover the hole in the bottle with your finger and fill the bottle with plain water.
4. Color the water if you wish.
5. Now do the following steps and tabulate the result (in A-4 sheet) you see in each case. Try to explain the reasons also.
  - i) Screw the cap back on and remove your finger from the hole.
  - ii) Pick the bottle up and squeeze it even just a little bit.
  - iii) Loosen and tighten the cap again.



Q1) Make your own sail boat with ice cream sticks by following the link given below

**<https://www.youtube.com/watch?v=rSWU5YpCbIA>**

Q2) Watch the video and answer the following questions:-

**Link: - <https://www.youtube.com/watch?v=FfhFieHXTNU&t=80s>**

- a) Name various means of water transport.
- b) Paste their pictures in a scrap file and write their advantages

**Map Skill**

QA) Locate the following ports on a political map of India.



1. Kandla Port - Gujarat
2. Visakhapatnam Port
3. Chennai Port
4. Jawaharlal Nehru Port - Mumbai
5. Mormugao Port - Goa

QB) On a political map of India locate and label the water bodies (sea and ocean) surrounding India .